



نام : نام خانوادگی: کلاس سوم ب	بسمه تعالی آزمون عملکردی ریاضی « پول »	مدت آزمون : ۴۵ دقیقه مورخه: طراح :
--------------------------------------	---	--

هدف آزمون: مفهوم واحد ریالی و تومان

آیا می دانید؟؟..... نیشابور به عنوان شهر ریاضی ایران نام گذاری شده است؟

سوال	هدف
------	-----

هدف کلی:

شناخت انواع پول رایج کشور  
شناخت ارزش هر کدام از پول ها  
شناخت با نوع به کار بردن کدام نوع پول در خریدهای روزانه

بافت مسئله:

علی برای خرید از بوفه مدرسه شان ، این قدر پول دارد.



به او کمک کنید تا بتواند خرید خود را انجام دهد.

گام به گام تا حل مسئله:

۱- او روی هم چند تومان پول دارد؟..... همان ..... ریال

شکلات کاکائویی ۲۰۰ تومان

کاغذ رنگی بسته ای ۵۰۰ تومان

بیسکویت ۱۰۰۰ تومان



۲- اگر علی بخواهد با پولش فقط کاغذ رنگی بخرد . چند کاغذ رنگی می تواند بخرد؟.....

چند تومان برایش باقی می ماند؟.....

۳- اگر علی بخواهد با پولش ۱۰ تا شکلات کاکائویی بخرد، چند تومان باید بدهد؟.....  
چند تومان برایش می ماند؟.....

۴- اگر علی بخواهد با پولش فقط بیسکویت بخرد، چند بیسکویت می تواند بخرد؟.....  
چند تومان برایش باقی می ماند؟.....

۵- اگر علی بخواهد با پولش بیسکویت و شکلات بخرد، از هر کدام چند تا می تواند بخرد؟.....  
چند تومان برایش باقی می ماند؟.....

۶- آیا علی می تواند برای خود و برادر کوچک تر از خودش به طور جداگانه یک بیسکویت، یک بسته کاغذ رنگی و یک شکلات بخرد؟



خیر



بله

دلیلش چیست؟

.....  
.....  
.....

نیازمند آموزش	قابل قبول	خوب	خیلی خوب	عملکرد
				گویه و شاخص
				می تواند جمع ها و تفریق ها را انجام دهد.
				می تواند مقدار موجودی علی را بنویسد.
				می تواند مقدار پول باقی مانده علی را بنویسد
				می تواند دلیل را واضح بنویسد.

باز خورد :

خودسنجی:

۱- از آزموننی که دادم راضی هستم؟.....زیرا؟

۲- چه چیزهایی از این آزمون یاد گرفتیم؟

۳- برای یادگیری چه چیزهایی باید بیشتر تلاش کنم؟

۴- برای اینکه بیشتر یاد بگیرم، باید چه کارهایی انجام دهم؟

بسمه تعالی

زمان : ۴۵ دقیقه

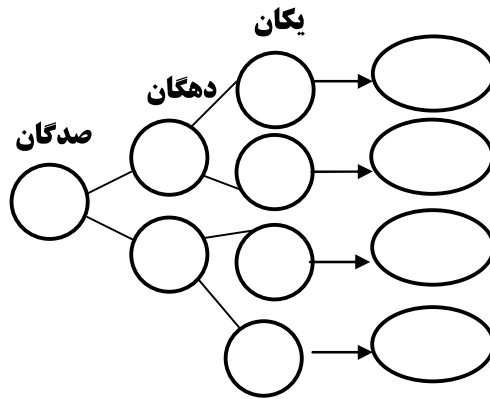
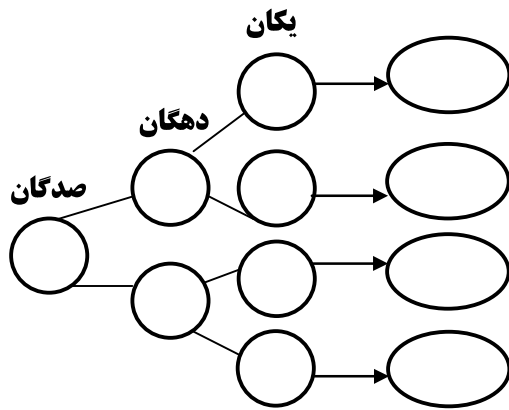
آزمون مداد کاغذی فصل دوم ریاضی

نام :

پایه ی سوم

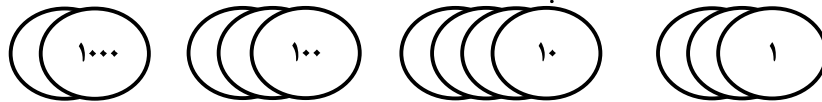
نام خانوادگی :

۱- همه ی عددهای سه رقمی را که رقم صدگان آن ها ۲ یا ۵ ، رقم دهگان آن ها ۱ یا ۶ و رقم یکان آن ها ۳ یا ۸ باشد ، بنویسید . جاهای خالی را پر کنید تا همه ی عددها به دست آیند.



۲- جدول های زیر را کامل کرده ، سپس آن را با عدد و حروف بنویسید .

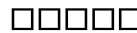


یکان	دهگان	صدگان	هزارگان



به عدد : .....  
به حروف : .....

یکان	دهگان	صدگان	هزارگان

به عدد : .....  
به حروف : .....



۳- جاهای خالی را با دقت پر کن .

عدد ۵۳۲۱ یعنی ..... یکی ، ..... ده تایی ، ..... صد تایی و ..... هزار تایی

عدد ..... یعنی ۵ یکی ، ۴ صد تایی و ۳ هزار تایی .

۳۲۵ سانتی متر ..... متر و ..... سانتی متر است .

۴۰۰۰ متر چند کیلومتر است ؟ .....

۴- الگوهای عددی زیر را ادامه دهید .

۵۰۰۰	۵۲۰۰	۵۴۰۰			
------	------	------	--	--	--

۳۰۰۰	۳۵۰۰	۴۰۰۰			
------	------	------	--	--	--

			۷۸۰۰	۷۹۰۰	۸۰۰۰
--	--	--	------	------	------

۹۴۱۰	۹۴۲۰	۹۴۳۰			
------	------	------	--	--	--

۵- باز شده ی هر عدد را بنویسید .

۷۱۱۰ =

۴۰۳۵ =

۹۷۰۰ =


۸۵۰۵ =

۶- با دقت جدول زیر را کامل کنید . اعدای که به ریال می باشند را به تومان بنویسید و اعدای که به تومان می باشد را به ریال بنویسید .

ریال	۱۵۰	۳۸۰			۲۲۰۰	
------	-----	-----	--	--	------	--

تومان			۴۷۰	۲۷۰		۶۲۰
-------	--	--	-----	-----	--	-----

۷- با توجه به محور ، عددهای داده شده را به صورت تقریبی روی محور نشان بدهید .



۸- عدد ۴۸۱۲ چند رقمی است ؟

آن را به حروف بنویسید .  
عدد قبل و بعد از آن را مشخص کنید .

۹- یک دلار کشور شکرستان ۱۲۰۰ تومان ارزش دارد . ۳ دلار این کشور چند تومان ارزش دارد ؟

۱۰- عددها را با هم مقایسه کنید.

۲۳۳۳ ○ ۲۵۱۱

۴۰۷۲ ○ ۴۰۷۰

۷۸۹۱ ○ ۱۹۹۹

۹۶۰۹ ○ ۹۰۰۹

نظر اولیاء :

بازخورد آموزگار :

انتظارات آموزشی	تسلط کامل	تسلط خوب	متوسط	کم	خیلی کم
۱- توانایی نوشتن همه ی اعداد سه رقمی با اعداد داده را دارد .					
۲- می تواند جدول های ارزش مکانی را با توجه به اشکال و بسته ها کامل نماید .					
۳- جاهای خالی را به درستی پر کرده است .					
۴- می تواند الگوهای عددی را ادامه دهد .					
۵- توانایی نوشتن اعداد را به صورت باز و گسترده دارد .					
۶- توانایی تبدیل ریال به تومان و تومان به ریال را دارد .					
۷- اعداد را می تواند به صورت تقریبی روی محور نشان دهد .					
۸- تعداد رقم ، حروف نویسی و عدد قبل و بعد ، عدد خواسته شده را می داند .					
۹- توانایی حل مسئله را دارد .					
۱۰- توانایی مقایسه کردن اعداد چهار رقمی را دارد .					

نام و نام خانوادگی:

نمونه تمرینات ریاضی سوم

تاریخ:

فصل ۲

کامل کنید.

- (الف) ۷ یکی و ۲۲ ده تایی و ۹ صد تایی می شود ؟ .....
- (ب) ۸۰۲۵ یعنی ..... صدتایی ..... ده تایی ..... یکی ..... هزار تایی
- (ج) ۵۳ صد تایی می شود .....
- (د) ۸ هزار تایی و ۲۰ ده تایی و ۲ یکی می شود .....

کامل کنید.

- (الف) ۶ کیلومتر و ۴۶۰ متر می شود ..... متر است.
- (ب) ۷۰۳۵ متر می شود ..... کیلومتر و ..... متر است.
- (ج) ۵ کیلوگرم و ۷۴۰ گرم می شود ..... گرم است.
- (د) ۹۴۰۰ گرم می شود ..... کیلوگرم و ..... گرم است.
- (ه) پنج و نیم کیلوگرم می شود ..... گرم است.
- (ز) ۳ کیلوگرم می شود ..... گرم است.
- (ر) چهار کیلوگرم و نیم کیلوگرم می شود ..... گرم.
- (ذ) ۷ کیلومتر و ۲۸۰ متر می شود ..... متر.
- (خ) ۹ کیلوگرم می شود ..... گرم.
- (ح) ۳۶۰۰ متر می شود ..... کیلومتر و ..... متر است.



آفرین همه رو جواب

بده !!

کامل کنید.

۱- ۱۰۰۰ تومان برابر ..... ریال است.

۲- ۱۰۰۰۰ ریال برابر ..... تومان است.

۳- ۱۲۰۰ ریال برابر ..... تومان است.

۴- ۳۰۰۰ تومان برابر ..... ریال است.

۵- ۲۴۰۰ ریال برابر ..... تومان است.

۶- ۵۰۰۰ تومان برابر ..... ریال است.

۷- ..... ریال برابر ۲۵۰۰ تومان است.

۸- ..... تومان برابر ۴۵۰۰ ریال است.

۹- ..... ریال برابر ۳۵۵۰ تومان است.

۱۰- ..... تومان برابر ۶۲۲۰ ریال است.

۱۱- ..... ریال برابر ۲۴۵۰ تومان است.

پازه شده (گسترده ی) عددهای زیر را بنویسید.

$$۳۷۵ =$$

$$۷۰۵ =$$

$$۵۷۰۶ =$$

$$۲۰۹۳ =$$

$$۹۰۰۲ =$$

$$۸۰۸۰ =$$

$$۶۳۰۲ =$$

جمع عددهای زیر را بنویسید.

$$۸۰۰۰ + ۲۰۰ + ۴۰ + ۳ =$$

$$۶۰۰۰ + ۴۰ + ۷ +$$

$$۴۰۰۰ + ۳۰۰ + ۶ =$$

$$۲۰۰۰ + ۶۰۰ + ۶۰ =$$

$$۷۰۰۰ + ۱۰۰ + ۹۰ + ۱ =$$



## خلاصه درس

$4000 + 20 + 8 =$

$5000 + 200 + 10 + 1 =$

$3000 + 8 + 8000 + 90 =$

$5000 + 500 + 80 + 1 =$

$3000 + 300 + 30 + 3 =$

$1000 + 100 + 100 + 10 + 8 + 2 + 5 =$

$2000 + 300 + 200 + 80 + 5 =$

$2000 + 3000 + 1 =$

$400 + 100 + 80 + 9 =$

8- سوال 6 و 7 را مقایسه کنید و نظر خود را بنویسید.

9- عدد داخل مربع به کدام عدد کناری خود نزدیک تر است؟

$5000 \leftarrow \boxed{5701} \rightarrow 6000$

$4000 \leftarrow \boxed{4520} \rightarrow 5000$

$7000 \leftarrow \boxed{7800} \rightarrow 8000$

$8000 \leftarrow \boxed{8009} \rightarrow 9000$

$4000 \leftarrow \boxed{4501} \rightarrow 5000$

مرور فصل:

1- بزرگ ترین و کوچک ترین عدد چهاررقمی را بنویسید.

2- کدام عدد چهاررقمی فقط 3 تا هزارتایی دارد؟

3- چند تا عدد چهاررقمی فرد وجود دارد که دهگان‌شان 4 و صدگان‌شان صفر و هزارگان‌شان 5 یا 8 باشد؟

4- مقایسه کنید.

$4001 \square 4051$

$5328 \square 5238$

$4831 \square 4801$

$381 \square 3811$

$4500 \square 3500$

$2890 \square 2809$

$2221 \square 2021$

$1111 \square 1110$

$3002 \square 3302$

$\square$

5- عدد داخل مربع به کدام عدد نزدیک تر است؟

## خلاصه درس

$$4000 \leftarrow \boxed{4890} \rightarrow 5000$$

$$2000 \leftarrow \boxed{2011} \rightarrow 3000$$

$$\leftarrow \boxed{\phantom{0000}} \rightarrow$$

$$1000 \leftarrow \boxed{1819} \rightarrow 2000$$

$$1000 \leftarrow \boxed{1712} \rightarrow 2000$$

6- عبارت های زیر را کامل کنید.

$$4000 + 1000 + 200 + 1 =$$

$$4008 =$$

$$8901 =$$

$$1000 + 80 =$$

$$921 =$$

## به نام خداوند نگین کمان

### آزمون ریاضی فصل ۲ (عددهای چهار رقمی)

نام و نام خانوادگی :

پایه سوم

۱ - چند عدد سه رقمی می توان که رقم صدگان آن ها ۵ و ۹ رقم دهگان آن ها ۸ و ۲ رقم یکان ها ۳ و ۱ باشد.

خ

ق

ن



۲ - به سوال های زیر پاسخ دهید.

الف) عدد « هفت هزار و سی و دو » را به صورت تقریبی بنویس.

ب) عدد « ۴۲۰۶ » را به حروف بنویس.

ج) عدد « ۷۵۲۹ » را به صورت گسترده بنویس.

د) حاصل جمع اعداد رو به رو را بنویس.

م) ۷ یکی و ۳ ده تایی و ۶ صدتایی و ۸ هزارتایی می شود.

ل) ۹۸۳۷ می شود ..... یکی و ..... ده تایی و ..... صدتایی و ..... هزارتایی

ن) صدگان عدد ۲۰۱۵ کدام رقم است؟ رقم ۶ در عدد ۶۹۵۳ چه رتبه ای دارد؟

خ خ

خ

ق

ن



خ خ

خ

ق

ن



۳ - مقایسه کنید.

۴ سکه ی ۲۵۰ ریالی  یک سکه ی ۱۰ تومانی

۵ سکه ی ۲۰ ریالی و ۹ سکه ی ۱۰۰۰ ریالی  ۶ سکه ی ۱۰۰۰ ریالی و ۱ سکه ی ۱۰ ریالی

۴ - حاصل جمع و تفریق های زیر را به دست آورید.

$۶ = ۴ \text{ صدتایی} - ۴ \text{ هزارتایی}$

$۹۰۰۰ - ۳۰۰۰ =$

$۳۰۰۰ + ۴۰۰۰ =$

۵ - به سوال ها پاسخ دهید.

خ خ

خ

ق

ن

- کوچک ترین عدد چهار رقمی با تکرار
- بزرگ ترین عدد چهار رقمی با تکرار
- کوچک ترین عدد چهار رقمی غیر تکراری
- بزرگ ترین عدد چهار رقمی غیر تکراری

خ خ

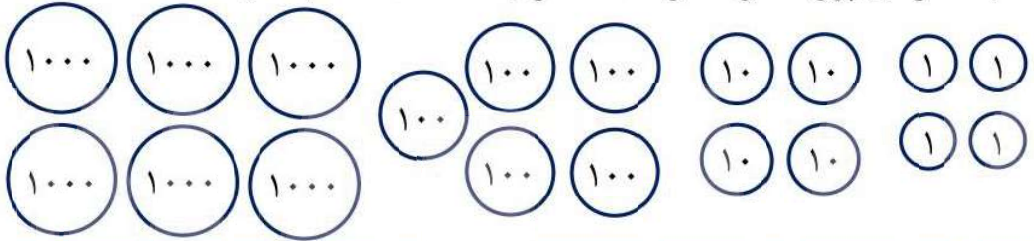
خ

ق

ن



۶ - به اندازه ی پول داخل شکل، سکه ها را با علامت × انتخاب کنید.



۷ - الف) جمع و تفریق های زیر به ریال هستند. آن ها را به تومان تبدیل کنید.

خ خ

خ

ق

ن

$$970 - 350 = 620 \rightarrow$$

$$5240 + 2370 = 7610 \rightarrow$$

ب) جمع و تفریق های زیر به تومان هستند. آن ها را به ریال تبدیل کنید.

$$598 - 397 = 201 \rightarrow$$

$$245 + 498 = 743 \rightarrow$$

۸ - الگوی اعداد زیر را ادامه دهید.

$$1700 - 1100 - 1300 - 700 - 900 - \square$$

$$\square - \square - \square - 1800 - 2000 - 2200 - \square - \square$$

$$9700 - 7009 - 7900 - 9007$$

۹ - از کوچک به بزرگ مرتب کنید.

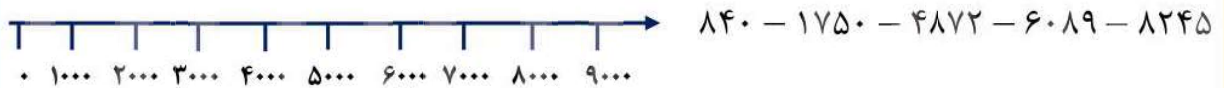
۱۰ - اعداد زیر را به صورت تقریبی روی محور نشان دهید.

خ خ

خ

ق

ن



۱۱ - یکان و دهگان و صدگان اعداد زیر را حذف کرده و بنویسید.

۳۱۴۷ →

۷۵۶۹ →

۴۲۶۵ →

۹۸۵۶ →

۱۲ - عدد داده شده به کدام عدد داخل مستطیل نزدیک تر است؟

۵۰۰۰

۵۵۰۱

۶۰۰۰



۱۳ - جاهای خالی را کامل کنید.

خ خ

● جرم هندوانه ۵ ..... است.

● قطر کتاب ریاضی ۱ ..... است.

خ

● ۳۷۵۲ گرم یعنی ..... کیلوگرم و ..... گرم

ق

● ۳۰۰۱ متر = ..... کیلومتر و ..... متر

ن

● ۹ کیلومتر و ۴۰ متر چند متر می شود؟



۱۴ - درست یا نادرست بودن عبارات های زیر را مشخص کنید.

خ خ

● ۴ تا نیم کیلوگرم با یک کیلوگرم برابر است.  درست  نادرست

خ

● واحد ریال یک صفر از واحد تومان بیشتر دارد.  درست  نادرست

ق

● با حرکت از راست به چپ ارزش مکانی اعداد بیشتر می شود.  درست  نادرست

ن

● هر کیلومتر ۱۰۰ متر است.  درست  نادرست


۱۵ - ۳۰۰ درهم کشوری ۱۰۰ ریال ایران است. ۵۰ تومان ایران چند درهم آن کشور است؟

خ خ

خ

ق

ن



۱۶ - گزینه ی درست را انتخاب کنید.



● از عدد ۹۰ تا عدد ۱۸۵ چند عدد سه رقمی وجود دارد؟

تا ۹۵

تا ۸۵

تا ۸۶

تا ۹۶

خ خ

خ

● با رقم ۴ و ۹ و ۰ و ۵ چند عدد فرد بدون تکرار می توان ساخت؟

تا ۱۲

تا ۱۰

تا ۸

تا ۶

ق

ن

● اختلاف بزرگ ترین عدد سه رقمی زوج و کوچک ترین عدد سه رقمی فرد کدام است؟

۹۸۷

۸۹۷

۷۸۹

۹۷۸

خ خ

خ

ق

ن

۱۷ - محمد به فروشگاه رفت و ۴۷۰۰ گرم شکر و ۲۸۰۰ گرم قند خرید. او در مجموع چند کیلوگرم و چند گرم خرید کرد؟



خ خ

خ

ق

ن

۱۸ - یک دوچرخه سوار در مسابقه ی ۴ کیلومتری شرکت کرده است و ۷۰۰ متر مانده به خط پایان دوچرخه اش پنچر شده است. او چند کیلومتر و چند متر رکاب زده است؟

۱۹ - یک مسئله طراحی و حل کنید که در آن از واحد جرم استفاده شده باشد.

خ خ

خ

ق

ن



## پاسخنامه ی فصل ۲

۱ - چند عدد سه رقمی می توان که رقم صدگان آن ها ۵ و ۹ رقم دهگان آن ها ۸ و ۲ رقم یکان ها ۳ و ۱ باشد.

۸ عدد



۹۸۱ - ۹۸۳ - ۹۲۱ - ۹۲۳ - ۵۸۱ - ۵۸۳ - ۵۲۱ - ۵۲۳

- خ  
 خ  
 ق  
 ن

۲ - به سوال های زیر پاسخ دهید.



الف) عدد « هفت هزار و سی و دو » را به صورت تقریبی بنویس. ۷۰۰۰

ب) عدد « ۴۲۰۶ » را به حروف بنویس. چهار هزار و دوست و شش

ج) عدد « ۷۵۲۹ » را به صورت گسترده بنویس.  $۷۰۰۰ + ۵۰۰ + ۲۰ + ۹$

د) حاصل جمع اعداد رو به رو را بنویس.  $۷۰ + ۲ + ۵۰۰ + ۸۰۰۰ = ۸۵۷۲$

م) ۷ یکی و ۳ ده تایی و ۶ صدتایی و ۸ هزارتایی می شود. ۸۶۳۷

ل) ۹۸۳۷ می شود. ۷... یکی و ۳... ده تایی و ۸... صدتایی و ۹... هزارتایی

ن) صدگان عدد ۲۰۱۵ کدام رقم است؟ • رقم ۶ در عدد ۶۹۵۳ چه رتبه ای دارد؟ هزارگان

- خ  
 خ  
 ق  
 ن

۳ - مقایسه کنید.



۴ سکه ی ۲۵۰ ریالی < یک سکه ی ۱۰ تومانی

۵ سکه ی ۲۰ ریالی و ۹ سکه ی ۱۰۰۰ ریالی < ۶ سکه ی ۱۰۰۰ ریالی و ۱ سکه ی ۱۰ ریالی

- خ  
 خ  
 ق  
 ن

۴ - حاصل جمع و تفریق های زیر را به دست آورید.

$۳۰۰۰ + ۴۰۰۰ = ۷۰۰۰$      $۹۰۰۰ - ۳۰۰۰ = ۶۰۰۰$      $۶ = ۲۴۰۰$  صدتایی - ۴ هزارتایی

۵- به سوال ها پاسخ دهید.

خ خ

خ

ق

ن

● کوچک ترین عدد چهار رقمی با تکرار ۱۰۰۰ ● بزرگ ترین عدد چهار رقمی با تکرار ۹۹۹۹

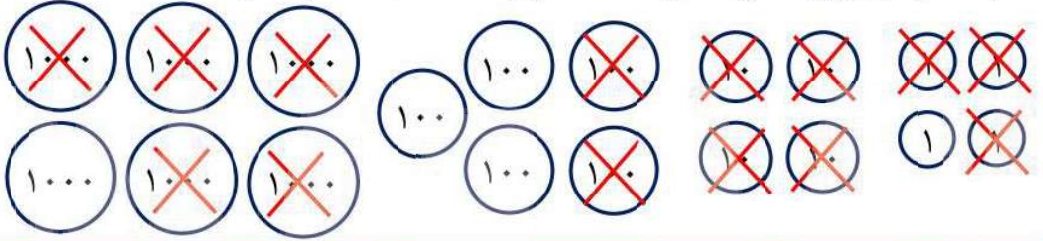
● کوچک ترین عدد چهار رقمی غیر تکراری ۱۰۲۳ ● بزرگ ترین عدد چهار رقمی غیر تکراری ۹۸۷۶

خ خ

خ

ق

ن



۷- الف) جمع و تفریق های زیر به ریال هستند. آن ها را به تومان تبدیل کنید.

خ خ

خ

ق

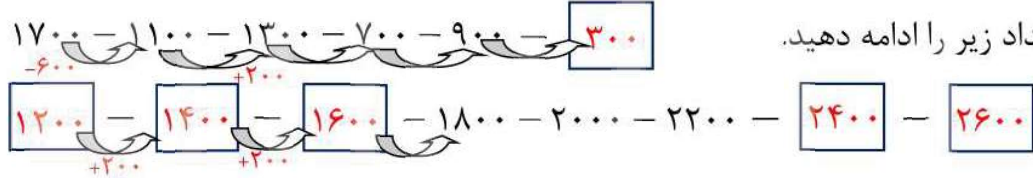
ن

$970 - 350 = 620 \rightarrow 97 + 35 = 62$        $5240 + 2370 = 7610 \rightarrow 524 + 237 = 761$

ب) جمع و تفریق های زیر به تومان هستند. آن ها را به ریال تبدیل کنید.

$598 - 397 = 201 \rightarrow 5980 + 3970 = 2010$        $245 + 498 = 743 \rightarrow 2450 + 4980 = 7430$

۸- الگوی اعداد زیر را ادامه دهید.



۹- از کوچک به بزرگ مرتب کنید.

$9700 - 7009 - 7900 - 9007$

$7009 - 7900 - 9007 - 9700$

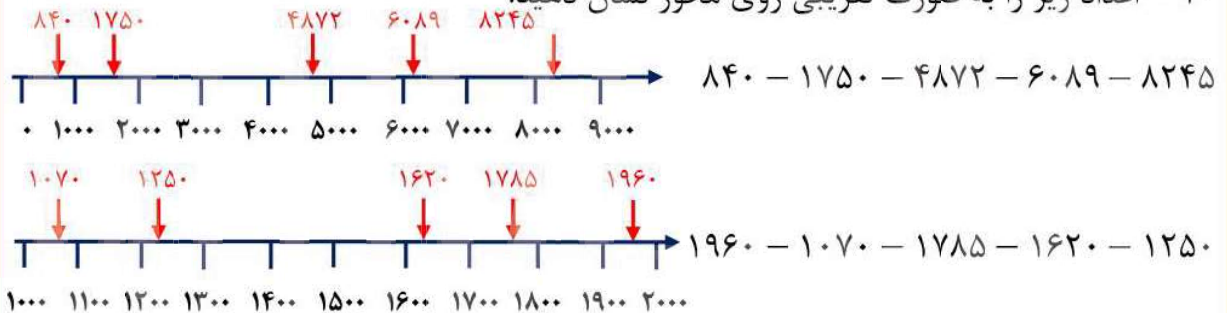
۱۰- اعداد زیر را به صورت تقریبی روی محور نشان دهید.

خ خ

خ

ق

ن



۱۱ - یکان و دهگان و صدگان اعداد زیر را حذف کرده و بنویسید.

۳۱۴۷ → ۳۰۰۰      ۷۵۶۹ → ۷۰۰۰      ۴۲۶۵ → ۴۰۰۰      ۹۸۵۶ → ۹۰۰۰

۱۲ - عدد داده شده به کدام عدد داخل مستطیل نزدیک تر است؟

۵۰۰۰

۵۵۰۱

۶۰۰۰



۱۳ - جاهای خالی را کامل کنید.

خ خ

قطر کتاب ریاضی ۱ .... سانتی متر ..... است. ● جرم هندوانه ۵ .. کیلو گرم .... است.

خ

۳۷۵۲ گرم یعنی .... ۳ ..... کیلوگرم و ... ۷۵۲ ..... گرم

ق

۳۰۰۱ متر = .... ۳ ..... کیلومتر و .... ۱ ..... متر

ن

۹ کیلومتر و ۴۰ متر چند متر می شود؟ ۹۰۴۰ متر



۱۴ - درست یا نادرست بودن عبارات های زیر را مشخص کنید.

خ خ

● ۴ تا نیم کیلوگرم با یک کیلوگرم برابر است.  درست  نادرست

خ

● واحد ریال یک صفر از واحد تومان بیشتر دارد.  نادرست  درست

ق

● با حرکت از راست به چپ ارزش مکانی اعداد بیشتر می شود.  نادرست  درست

ن

● هر کیلومتر ۱۰۰ تا متر است.  درست  نادرست

۱۵ - ۳۰۰ درهم کشوری ۱۰۰ ریال ایران است. ۵۰ تومان ایران چند درهم آن کشور است؟ ۱۵۰۰

خ خ

ریال ایران	۱۰۰	۲۰۰	۳۰۰	۴۰۰	۵۰۰
------------	-----	-----	-----	-----	-----

خ

درهم	۳۰۰	۶۰۰	۹۰۰	۱۲۰۰	۱۵۰۰
------	-----	-----	-----	------	------

ق

ن

۱۵۰۰ درهم = ۵۰۰ ریال = ۵۰ تومان



۱۶ - گزینه ی درست را انتخاب کنید.



$$185 - 90 = 95$$

● از عدد ۹۰ تا عدد ۱۸۵ چند عدد سه رقمی وجود دارد؟

خ خ

تا ۹۶

تا ۸۶

تا ۸۵

تا ۹۵

ب ب

(4\_405\_459\_۹۰)

(905\_945\_509\_549\_09)

● رقم ۴ و ۹ و ۰ و ۵ چند عدد سه رقمی فرد بدون تکرار می توان ساخت؟

ق ق

تا ۶

تا ۸

تا ۱۰

تا ۱۲

ن ن

● اختلاف بزرگ ترین عدد سه رقمی زوج و کوچک ترین عدد سه رقمی فرد کدام است؟

۹۷۸

۷۸۹

۸۹۷

۹۸۷

خ خ

۱۷ - محمد به فروشگاه رفت و ۴۷۰۰ گرم شکر و ۲۸۰۰ گرم قند خرید. او در مجموع چند

خ خ

کیلوگرم و چند گرم خرید کرد؟

ق ق

$$2800 + 4700 = 7500$$

ن ن

۷ کیلوگرم و ۵۰۰ گرم

خ خ

۱۸ - یک دوچرخه سوار در مسابقه ی ۴ کیلومتری شرکت کرده است و ۷۰۰ متر مانده به خط

خ خ

پایان دوچرخه اش پنجر شده است. او چند کیلومتر و چند متر رکاب زده است؟

ق ق

$$4000 - 700 = 3300$$

۳ کیلومتر و ۳۰۰ متر رکاب زده است.

ن ن

۱۹ - یک مسئله طراحی و حل کنید که در آن از واحد جرم استفاده شده باشد.

سارینا ۷۲۰۰ گرم برنج خریده بود. مادر او ۳ کیلوگرم از برنج را برای مهمانی پخت. چه مقدار از

خ خ

$$7200 - 3000 = 4200$$

برنج باقی مانده است؟

خ خ

۴ کیلوگرم و ۲۰۰ گرم از برنج باقی مانده است.

ق ق

ن ن

